
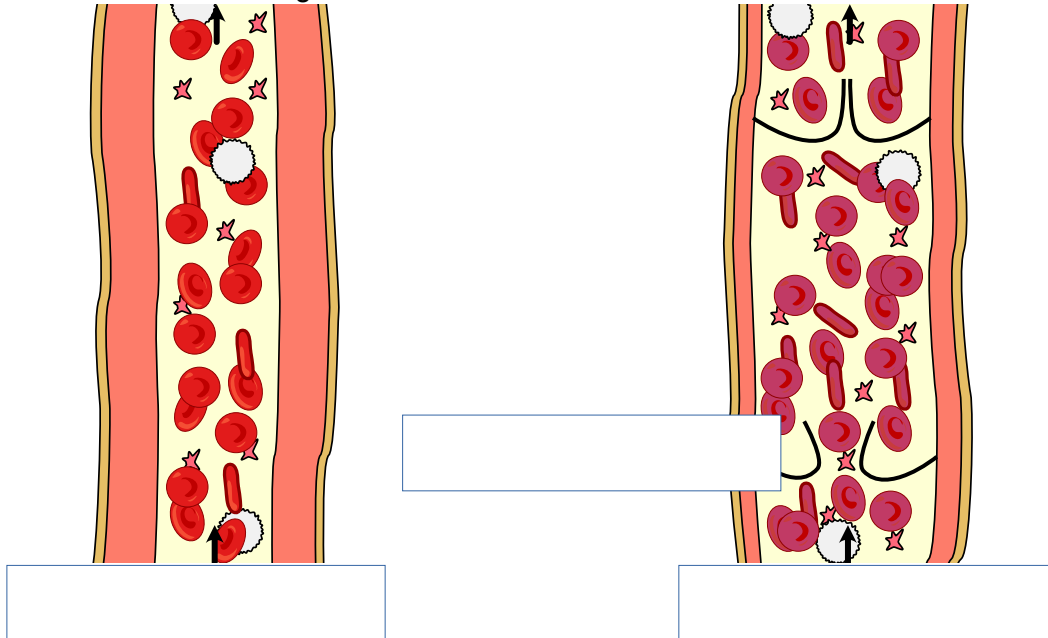


 Lies des Text „[die Blutgefäße \(Schwierigkeit E\)](#)“ und bearbeite anschließend die folgenden Aufgaben.


 **Beschrifte** die beiden Blutgefäße





 **Vervollständige** die beiden Sätze.

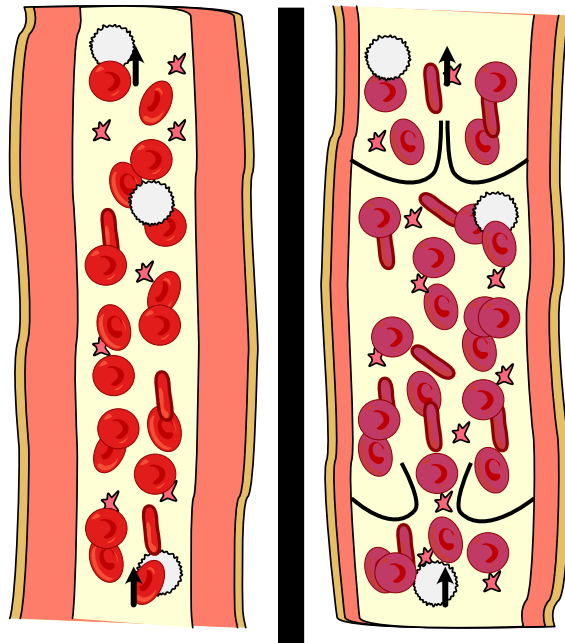
Arterien sind die Blutgefäße, die das Blut Herzen .

Venen sind die Blutgefäße, die das Blut Herzen .

 **Beschreibe** wie Arterien aufgebaut sind und wie das Blut in ihnen bewegt wird.

 **Beschreibe** wie Venen aufgebaut sind und wie das Blut in ihnen bewegt wird.

 **Erkläre** wie verhindert wird, dass das Blut in den Venen nicht zurück fließt.



© A.Spielhoff, Arterie und Vene, CC 0



Vergleiche die Arterie und die Vene. Benenne die Unterschiede.



Versuche, möglichst viele Stellen bei dir selbst zu finden, an denen du den Puls fühlen (oder sehen) kannst! **Zeichne** diese Punkte in den Umriss eines menschlichen Körpers ein.



Nenne andere Worte für die Blutgefäße in denen man den Puls spüren kann.

