
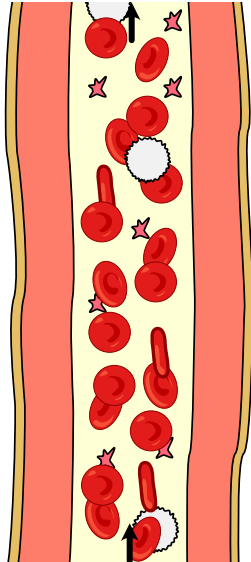
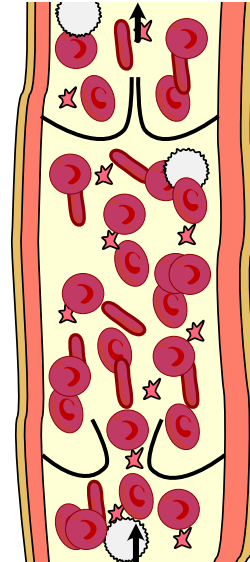



 Lies des Text „[die Blutgefäße \(Schwierigkeit D\)](#)“ und bearbeite anschließend die folgenden Aufgaben.

 **Beschrifte** die beiden Blutgefäße







 **Vervollständige** mit Hilfe des Textes die beiden Sätze.

Arterien sind die Blutgefäße,
die das Blut Herzen .

Venen sind die Blutgefäße,
die das Blut Herzen .

 Beschreibe wie Arterien aufgebaut sind. **Schreibe** hierfür aus dem Text „[die Blutgefäße \(Schwierigkeit D\)](#)“ den **gelben Text** zu den Arterien ab.

 **Beschreibe** wie Venen aufgebaut. **Schreibe** hierfür den **gelben Text** zu den Venen ab.



Kreise bei der Zeichnung die Punkte ein, an denen du deinen Puls spürst.

